

Sveinn Eyþórsson

# TÓNFRÆÐI



1. stig

[www.classicalguitarschool.net](http://www.classicalguitarschool.net)

## *Formáli*

*Þessi bók er ætluð nemendum 9 ára og eldri sem 1. stigs verkefni í tónfræði. Hægt er að nota bókina sem kennsluefni í einkatímum ásamt hljóðfæranáminu eða í hópkenndu hjá tónfræðikennurum. Tónheyrn er ekki tekin fyrir í bókinni því verður að kenna hana eftir öðru námsefni samhliða tónfræðinni. Venjulegur námshraði með þessu efni væri einn vetur í hópkenndu, en einn til tveir í einkatímum ásamt hljóðfæranáminu, en þetta fer þó alltaf eftir aldri og þroska nemandans. Aftast í bókinni eru nótnalínur sem ætlaðar eru til æfinga eða aukaverkefna sem kennarinn semur eftir þörfum nemandans. Þetta er fyrsta bókin af fimm bókum, námsefni í tónfræði 1. til 5. stig.*

*Sveinn Eyþórsson*

Nafn: \_\_\_\_\_


Heimili: \_\_\_\_\_


Sími: \_\_\_\_\_


## Efnisyfirlit


	Bls
Nótnastrengurinn	4
Lengdargildin	7
Þagnir	9
Punktur	12
Takttegundir	15
Formerki	19
Tónstigar	22
Þríhljómar	26
Orð og merki	28
Nótnaskrift	32

# 1. Nótastrengurinn



G-lykill 

F-lykill (bassalykill) 



1. Teiknið G-lykla:






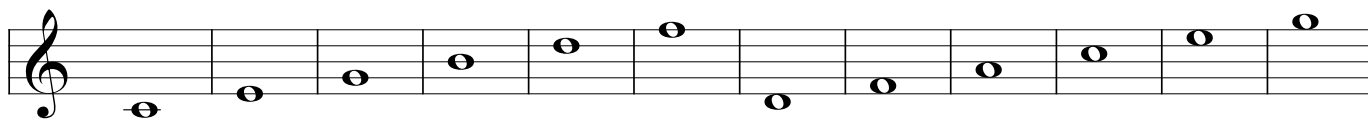
2. Teiknið F-lykla:

3. Lærið nöfnin á nótunum í G og F-lykli:

C D E F G A H C D E F G A

E F G A H C D E F G A H C

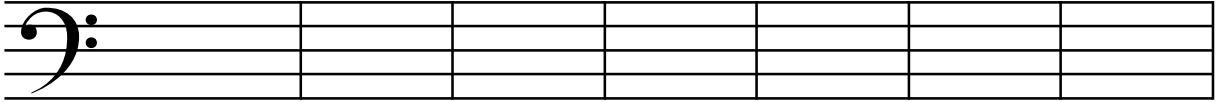
4. Skrifðu fyrir neðan hverja nótu hvað hún heitir. Gætið að lyklinum fremst í hverri línu:



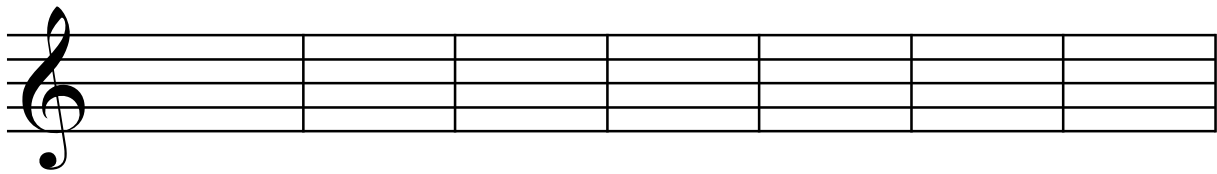
5. Skrifðið þessar nótur:



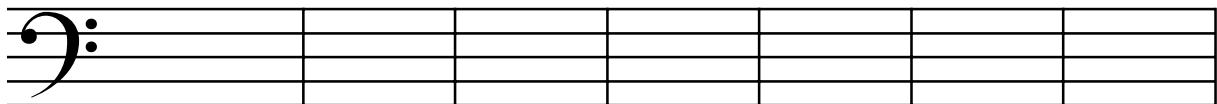
F á línu C á bili G á bili D á línu A á bili E á bili H á línu



H á línu E á bili A á bili D á línu G á bili C á bili F á línu

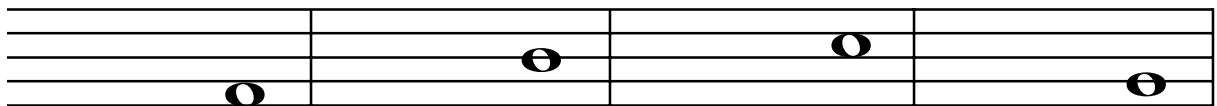


F á bili C á línu G á línu D á bili A á bili E á línu H á línu




H á bili E á línu A á línu D á línu G á línu C á línu F á bili

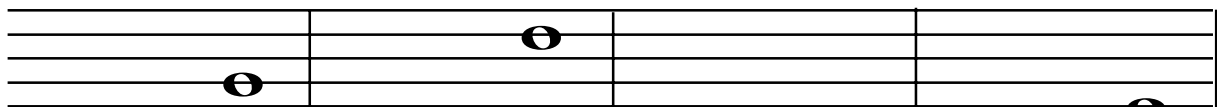
6. Skrifðið réttan lykil fyrir framan hverja nótu:



A H E G



D C F A

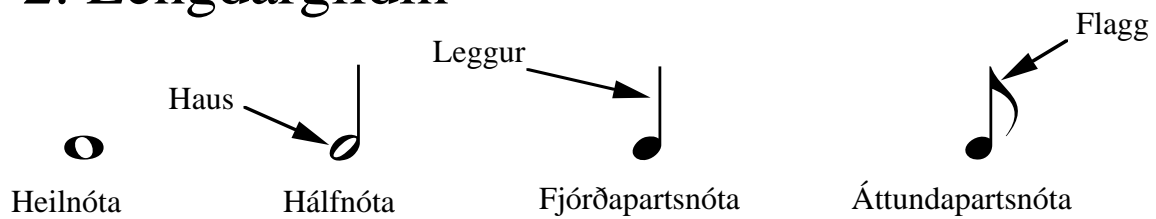


H F F E

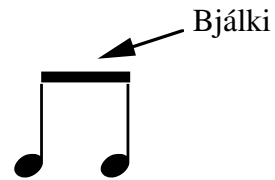


F C G H


## 2. Lengdargildin




Ef tvær eða fleiri áttundapartsnótur fara saman eru þær dregnar saman með bjálka.




Nótur sem eru á þriðju línu og þar fyrir ofan eru með legginn vísandi niður en nótur fyrir neðan þriðju línu eru með legginn vísandi upp.




1. Skrifið heilnótur á línum og bilum:




2. Skrifið hálfnótur á línum og bilum:



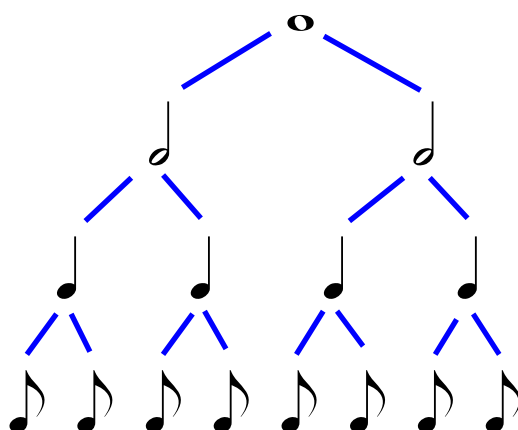
3. Skrifið fjórðapartsnótur á línum og bilum:



4. Skrifið áttundapartsnótur á línum og bilum og bjálkið þær saman tvær og tvær:



Þannig skiptist heilnótan



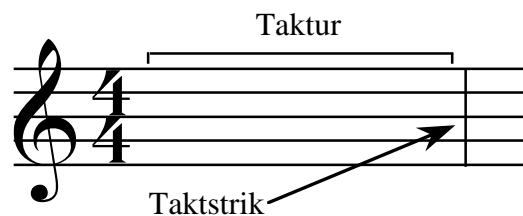
5. Hve margar hálfnotur eru í einni heilnótu? \_\_\_\_\_

6. Hve margar áttundapartsnóttur eru í einni hálfnotu? \_\_\_\_\_

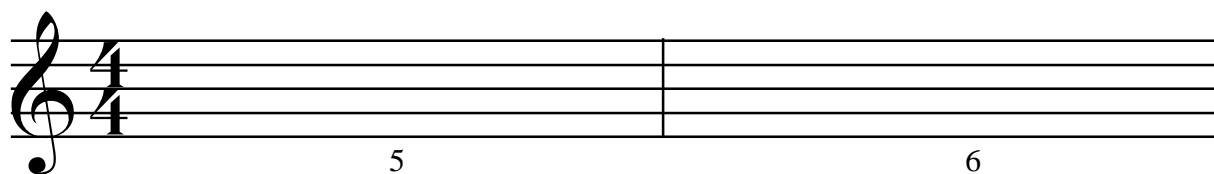
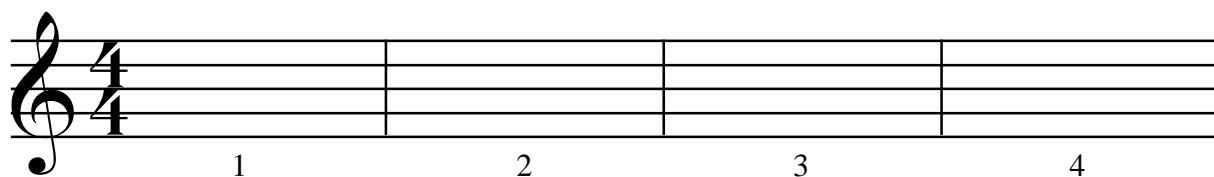
7. Hve margar fjórðapartsnóttur eru í einni heilnótu? \_\_\_\_\_

8. Hve margar áttundapartsnóttur eru í einni heilnótu? \_\_\_\_\_

Taktboði  $\frac{4}{4}$  ← Fjórar  
 $\frac{4}{4}$  ← Fjórðapartsnóttur í takti

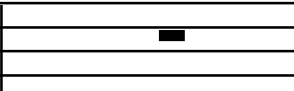
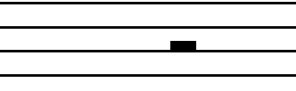


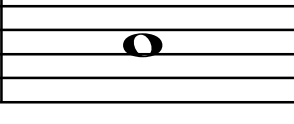





9. Fyllið þessa takta með 1, 2, 3, 4, 5, 6, 7 og 8 nóttum:





### 3. Þagnir

Heilnótubögn	Hálfnótubögn	Fjórðapartspögn	Áttundapartspögn
			
Heilnóta	Hálfnóta	Fjórðapartsnóta	Áttundapartsnóta
			


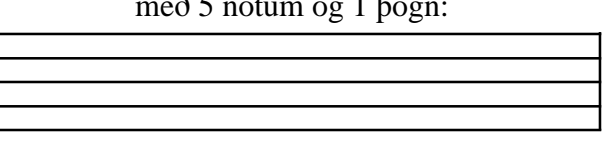
1. Teiknið heilnótubagnir:

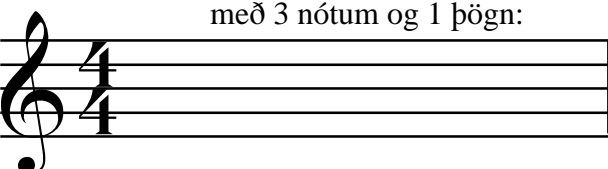
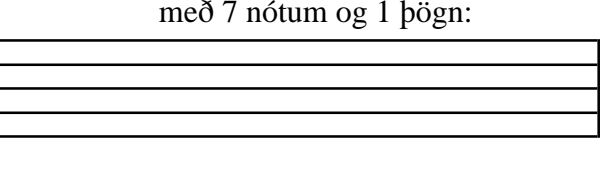

2. Teiknið hálfnótubagnir:


3. Teiknið fjórðapartspagnir:


4. Teiknið áttundapartspagnir:


5. Fyllið út þessa takta...

með 1 nótu og 1 þögn:	með 5 nótum og 1 þögn:
	

með 3 nótum og 1 þögn:	með 7 nótum og 1 þögn:
	

6. Setjið taktstrik í þessi tóndæmi:

6. Setjið taktstrik í þessi tóndæmi:

7.

7.

8.

8.

9.

9.

10. Setjið inn réttar þagnir þar sem merkin eru:

The image shows a musical exercise consisting of nine staves of music in 4/4 time. Each staff contains a sequence of notes, with asterisks (\*) placed above certain notes to indicate where the student should insert the correct rests. The notes are primarily quarter and eighth notes, with some half notes and rests. The exercise is designed to test the student's ability to identify and insert the appropriate rests based on the rhythmic context.

## 4. Punktur

Punktur á eftir nótu lengir gildi hennar um helming.  
Þ. e. a. s. gildið + hálf gildið.

$$\text{O} \cdot = \text{O} + \text{p}$$

$$\text{p} \cdot = \text{p} + \text{p} \cdot$$

$$\text{p} \cdot \cdot = \text{p} \cdot + \text{p} \cdot \cdot$$

Þegar tveir punktur eru á eftir nótu þá jafngildir seinni punkturinn helmingnum af þeim fyrri.

$$\text{O} \cdot \cdot = \text{O} + \text{p} + \text{p} \cdot$$

$$\text{p} \cdot \cdot = \text{p} + \text{p} \cdot + \text{p} \cdot \cdot$$

Punktar eru einnig settir á eftir þögnum, og gilda þar sömu reglur.

1. Hve margar fjórðapartsnótur eru í einni punkteraðri hálfnútu? \_\_\_\_\_
2. Hve margar áttundapartsnótur eru í einni punkteraðri hálfnútu? \_\_\_\_\_
3. Hve margar áttundapartsnótur eru í einni punkteraðri heilnútu? \_\_\_\_\_
4. Hve margar áttundapartsnótur eru í einni punkteraðri fjórðapartsnútu? \_\_\_\_\_
5. Hve margar fjórðapartsnótur eru í einni punkteraðri heilnútu? \_\_\_\_\_
6. Hve margar áttundapartsnótur eru í einni tvípunkteraðri heilnútu? \_\_\_\_\_
7. Hve margar áttundapartsnótur eru í einni tvípunkteraðri hálfnútu? \_\_\_\_\_

8. Setjið inn taktstrik í eftirfarandi tóndæmi:

The image shows eight staves of musical notation in treble clef. The first staff is in 4/4 time. The second staff is in 3/4 time. The third staff is in 4/4 time. The fourth staff is in 4/4 time. The fifth staff is in 3/4 time. The sixth staff is in 4/4 time. The seventh staff is in 2/4 time. The eighth staff is in 4/4 time. The music includes various note values, rests, and bar lines.


9. Setjið inn þagnir þar sem merkin eru:

The image shows a musical score for exercise 9, consisting of nine staves of music in 4/4 time. The notes are marked with asterisks (\*) to indicate where the student should insert the lyrics. The notes are as follows:

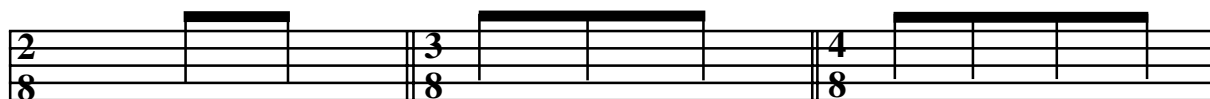
- Staff 1: G4 (quarter), A4 (quarter), B4 (quarter), C5 (quarter), D5 (quarter), E5 (quarter), F5 (quarter), G5 (quarter).
- Staff 2: G4 (quarter), A4 (quarter), B4 (quarter), C5 (quarter), D5 (quarter), E5 (quarter), F5 (quarter), G5 (quarter).
- Staff 3: G4 (quarter), A4 (quarter), B4 (quarter), C5 (quarter), D5 (quarter), E5 (quarter), F5 (quarter), G5 (quarter).
- Staff 4: G4 (quarter), A4 (quarter), B4 (quarter), C5 (quarter), D5 (quarter), E5 (quarter), F5 (quarter), G5 (quarter).
- Staff 5: G4 (quarter), A4 (quarter), B4 (quarter), C5 (quarter), D5 (quarter), E5 (quarter), F5 (quarter), G5 (quarter).
- Staff 6: G4 (quarter), A4 (quarter), B4 (quarter), C5 (quarter), D5 (quarter), E5 (quarter), F5 (quarter), G5 (quarter).
- Staff 7: G4 (quarter), A4 (quarter), B4 (quarter), C5 (quarter), D5 (quarter), E5 (quarter), F5 (quarter), G5 (quarter).
- Staff 8: G4 (quarter), A4 (quarter), B4 (quarter), C5 (quarter), D5 (quarter), E5 (quarter), F5 (quarter), G5 (quarter).
- Staff 9: G4 (quarter), A4 (quarter), B4 (quarter), C5 (quarter), D5 (quarter), E5 (quarter), F5 (quarter), G5 (quarter).

## 5. Takttegundir

Efri tala taktboðans er annað hvort 2, 3 eða 4. Hún segir okkur hvort takturinn er tví, þrí eða fjórskiptur og hve mörg slög við teljum í hvern takt. Neðri talan segir okkur hinsvegar hvað hvert slag er langt. Hún getur verið 2, 4 eða 8. 2 stendur fyrir hálfnotu, 4 fyrir fjórðapartsnotu og 8 fyrir áttundapartsnotu.







Einfaldir taktboðar			
Nóta	Tvískiptir	Þrískiptir	Fjórskiptir
	2 2	3 2	4 2
	2 4	3 4	4 4
	2 8	3 8	4 8

Áttundapartsnótturnar eru bjálkaðar fjórar saman ef neðri talan er 2, en tvær saman ef neðri nótan er 4. Ef neðri talan er 8 þá má bjálka saman allar áttundapartsnótturnar eða enga. Í 3/4 má einnig bjálka saman allar áttundapartsnótturnar og í 4/4 má bjálka saman fjórar áttundapartsnótur ef þær lenda á 1. og 2. eða 3. og 4. taktslagi.



1. Hvaða taktboði er fyrir einfaldan þrískiptan takt með hálfnotu í slagi? \_\_\_\_\_
2. Hvaða taktboði er fyrir einfaldan tvískiptan takt með fjórðapart í slagi? \_\_\_\_\_
3. Hvaða taktboði er fyrir einfaldan fjórskiptan takt með áttundapart í slagi? \_\_\_\_\_

Skrifið taktboða fyrir þessi dæmi:





20. Endurritið eftirfarandi dæmi og setjið bjálka:


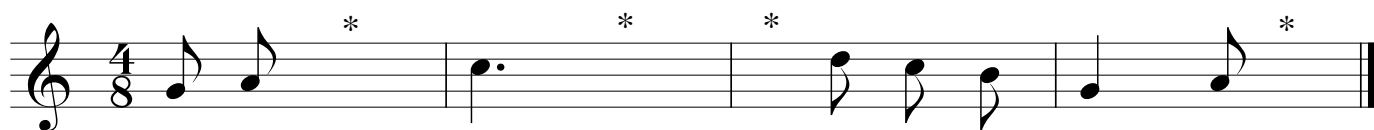

System 1: Treble clef, 4/4 time. Melody: G4, A4, B4, B4, C5, B4, A4, G4.

System 2: Treble clef, 3/4 time. Melody: G4, A4, B4, B4, C5, B4, A4, G4.

System 3: Treble clef, 3/4 time. Melody: G4, A4, B4, C5, B4, A4, G4.

System 4: Treble clef, 4/4 time. Melody: G4, A4, B4, C5, B4, A4, G4.

24. Setjið inn þagnir þar sem merkið er:




## 6. Formerki


Formerki eru sett fyrir framan nótu til að hækka eða lækka tónhæð hennar um hálfan tón.

Bé (Lækkunarkerki)	Kross (Hækkunarkerki)	Afturköllunarkerki
b	#	♯
Lækkar nótuna um hálfan tón	Hækkar nótuna um hálfan tón	Ógildir fyrri hækkun eða lækkun

Setja verður formerkið á sama bil eða línu og nótan er á.




Formerkið gildir út hvern takt. Þ.e.a.s. ef hækkuð nóta kemur fyrir aftur seinna í taktinum er hún einning hækkuð nema að hún sé afturkölluð.




Nöfnin á nótunum breytast við hækkun og lækkun.

Stofntónatafla		
b	♯	#
Ces	C	Cís
Des	D	Dís
Es	E	Eís
Fes	F	Fís
Ges	G	Gís
As	A	Aís
B	H	Hís


1. Teiknið bé á öllum línnum og bilum:



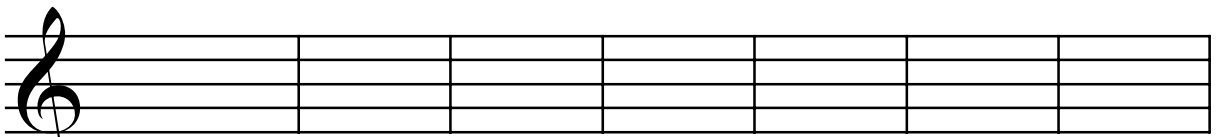
2. Teiknið krossa á öllum línnum og bilum:



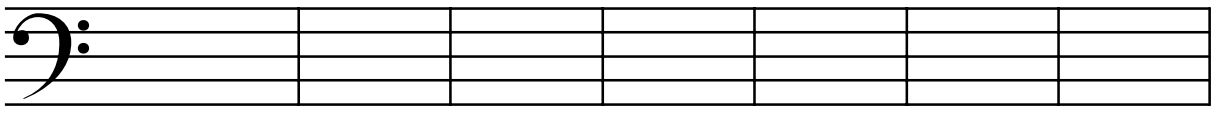
3. Teiknið afturköllunarkerki á öllum línnum og bilum:



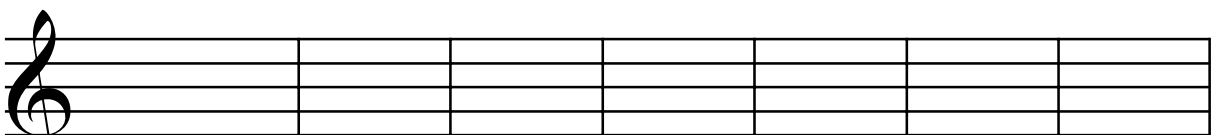
4. Skrifnið þessar nótur:



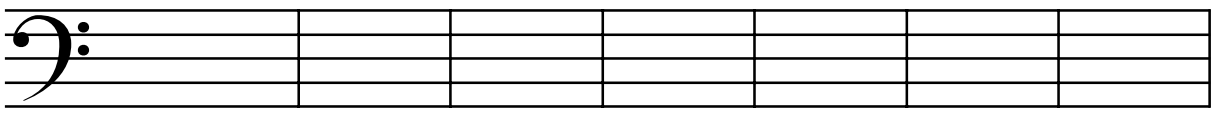
Cís Fís Ges Bé Gís Es Dís



Bé As Dís Ges Eís Ces Aís

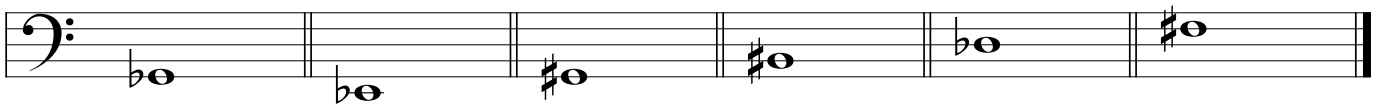


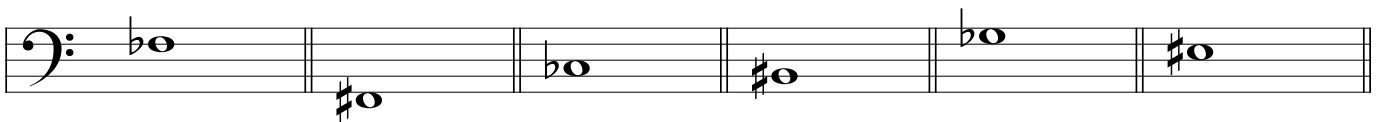
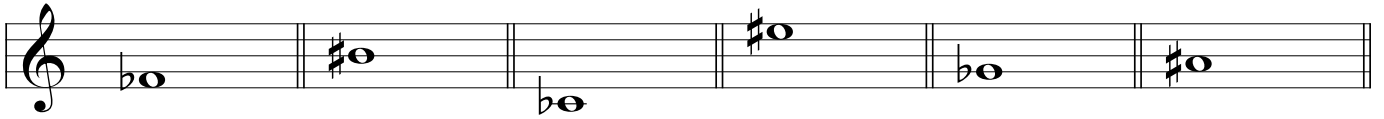


Fes Hís Ces Bé Es Des As





Cís Es Gís Bé As Fís Des





5. Skrifidó rétt nöfn undir þessar nótur:



6. Merkið við hærri nóttuna í hverjum takti:




## 7. Tónstigar

Tóntegundir			
F-dúr	C-dúr	G-dúr	D-dúr
			
1 bé á H	engin formerki	1 kross á F	2 krossar á F og C

Áður en við skrifum dúr tónstigann þurfum við fyrst að vita í hvað tóntegund hann á að vera. Því hver tóntegund hefur sín eiginlegu formerki sem við þurfum að setja í tónstigann annað hvort sem laus eða föst formerki. Föstu formerkin setjum við strax á eftir lyklinum fremst í línunni og gilda þau út línuna. Laus formerki setjum við á einstakar nótur tónstigans. Fyrsta nóta tónstigans ákvarðast af tóntegundinni C-dúr byrjar á C, F-dúr byrjar á F o.s.f. Síðan er gengið í gegnum nótastafrófið þar til við erum aftur komin með sama nótanæðitið og við byrjuðum tónstigann á. Bilin á milli 3. 4. og 7. 8. tóns í tónstiganum eru hálfþónsbil.

1. Skrifuð eftirfarandi föst formerki:



G-dúr                      F-dúr                      D-dúr

D-dúr                      D-dúr                      G-dúr

2. Skrifid G-lykil og C-dúr tónstiga upp á við:

---

---

---

---

3. Skrifid F-lykil og G-dúr tónstiga upp á við með föstum formerkjum:

---

---

---

---

4. Skrifid G-lykil og F-dúr tónstiga upp á við með lausum formerkjum:

---

---

---

---

5. Skrifid F-lykil og D-dúr tónstiga upp á við með föstum formerkjum:

---

---

---

---

6. Skrifid F-lykil og C-dúr tónstiga niður á við:

---

---

---

---

7. Skrifid G-lykil og D-dúr tónstiga niður á við með lausum formerkjum:

---

---

---

---

8. Skrifid G-lykil og F-dúr tónstiga niður á við með föstum formerkjum:

---

---

---

---

9. Skrifid G-lykil G-dur tonstiga niður á við með föstum formerkjum:

---

---

---

---

10. Skrifid F-lykil og F-dur tonstiga upp á við með föstum formerkjum:

---

---

---

---

11. Skrifid G-lykil og D-dur tonstiga upp á við með lausum formerkjum:

---

---

---

---

12. Skrifid F-lykil og G-dur tonstiga upp á við með lausum formerkjum:

---

---

---

---

13. Skrifid F-lykil og tonstiga sem hefur tvo krossa upp og niður með lausum formerkjum, setjid boga á hálftons bilin:

---

---

---

---

14. Skrifid G-lykil og G-dur tonstiga upp og niður á við með lausum formerkjum, setjid boga á hálftons bilin:

---

---

---

---

15. Skrifid F-lykil og F-dur tonstiga upp og niður á við með föstum formerkjum, setjid boga á hálftons bilin:

---

---


---

---



Setjið inn laus formerki svo tónðæmin verið í umbeðnum tóntegundum:

16. G-Dúr




17. F-dúr




18. D-dúr



19. G-dúr




20. F-dúr



21. D-dúr



22. G-dúr



23. F-dúr



## 8. Þríhljómar

Það kallast hljómur þegar tvær eða fleiri nótur eru leiknar samtímis.

Til að skrifa nótur sem leiknar eru samtímis eða hljóma þá skrifum við nóturnar lóðrétt á nótnastrenginn.

Þríhljómurinn er samsettur úr þremur nótum úr tónstiganum, þeirri 1., 3. og 5.

Við skrifum þríhljóminn með því að setja fyrstu nótuna neðst síðan tvær næstu nóturnar hverja upp af annarri.

Nóturnar 3 í þríhljómunum eru annað hvort allar á bilum eða línunum.

Eins og með tónstigana þá eru þríhljómarirnir skrifaðir með lausum eða föstum formerkjum. Ef um er að ræða laus formerki þá þarf aðeins að skrifa formerkið ef það á við einhverja nótú í hljómunum.

1. Hvað eru margar nótur í þríhljómi? \_\_\_\_\_

2. Hvaða nótur tónstigans mynda þríhljómi? \_\_\_\_\_

3. Skrifið hvað þessir þríhljómar heita:



4. Skrifid G- lykil og þessa þríhljóma með lausum formerkjum:

---

---

---

---

F-dúr

D-dúr

C-dúr

G-dúr

5. Skrifid F- lykil og þessa þríhljóma með lausum formerkjum:

---

---

---

---

C-dúr

F-dúr

G-dúr

D-dúr

6. Skrifid G- lykil og þessa þríhljóma með föstum formerkjum:

---

---

---

---

G-dúr

D-dúr

C-dúr

F-dúr

7. Skrifid F- lykil og þessa þríhljóma með föstum formerkjum:

---

---

---

---

F-dúr

C-dúr

G-dúr

D-dúr

## 9. Orð og merki

### Hraðatákn

---

<b>Largo</b>	hægt, breitt
<b>Larghetto</b>	ekki eins hægt og Largo
<b>Adagio</b>	rólega og gætilega
<b>Andante</b>	gangandi
<b>Andantino</b>	ekki eins hægt og Andante, gangandi létt
<b>Moderato</b>	hóflega hratt
<b>Allegretto</b>	hægar en Allegro
<b>Allegro</b>	gláðlega
<b>Presto</b>	fljótt

### Hraðabreytingar

---

<i>accelerando (accel.)</i>	hraðar
<i>stringendo (string.)</i>	kreistandi
<i>ritardando (rit.)</i>	seinka
<i>rallentando (rall.)</i>	hægar
<i>a tempo</i>	sami hraði og áður
<i>rubato</i>	frálst

### Styrkleikatákn

---

<i>ppp</i>	mjög, mjög veikt
<i>pp</i>	mjög veikt
<i>p</i>	veikt
<i>mp</i>	miðlungi veikt
<i>mf</i>	miðlungi sterkt
<i>f</i>	sterkt
<i>ff</i>	mjög sterkt
<i>fff</i>	mjög, mjög sterkt
<i>fz</i>	með valdi og krafti

### Styrkleikabreytingar

---

<i>crescendo (cresc.)</i>	með vaxandi styrk
<i>diminuendo (dim.)</i>	með minnkandi styrk
<i>calando</i>	dvínandi
<i>morendo</i>	deyjandi

### Áhersluorð

---

<i>staccato (stacc.)</i>	snöggt
<i>legato (leg.)</i>	bundið

Nótnastrengur                      G-lykill                      F-lykill                      Taktboði

Heilnótupögn	Hálfnótupögn	Fjórðapartspögn	Áttundapartspögn
Heilnóta	Hálfnóta	Fjórðapartsnóta	Áttundapartsnóta

Taktstrik	Kaflaskipti	Endurtekningarmerki	Endingarmerki

<i>Staccato</i> ( <i>stacc.</i> )	<i>Legato</i> ( <i>leg.</i> )	Bindibogi	Tengibogi

Dráttarbogi <i>Fermata</i>	Áherslumerki	Bé	Kross	Afturköllunarmerki

<i>Crescendo</i> ( <i>cresc.</i> )	<i>Diminuendo</i> ( <i>dim.</i> )	<i>D.C.al Fine</i>
Með vaxandi styrk	Með minnkandi styrk	Frá byrjun að merkinu Fine

1. Þýðið þessi ítölsku orð:

Diminuendo	_____
Presto	_____
Accelerando	_____
Staccato	_____
D.C. al Fine	_____
Morendo	_____
Andante	_____
Legato	_____
Ritardando	_____
Crescendo	_____

2. Raðið þessum styrkleikatáknum upp frá veikt til sterkt:

*mf - ff - mp - f - pp - fz*

\_\_\_\_\_

3. Raðið þessum hraðatáknum upp, hægt til hratt:






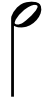















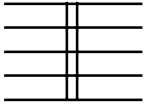


*Allegretto - Presto - Larghetto - Adagio - Andantino - Moderato*

\_\_\_\_\_

4. Þýðið þessar skammstafanir:

rit.	_____
cresc.	_____
rall.	_____
dim.	_____
accel.	_____
leg.	_____
string.	_____
stacc.	_____
D.C.	_____

5. Skrifðu hvað þessi tákn heita:

	_____		_____
	_____		_____
	_____		_____
	_____		_____
	_____		_____
	_____		_____
	_____		_____
	_____		_____
	_____		_____
	_____		_____
	_____		_____
	_____		_____





5. LERGO

Musical notation for exercise 5, LERGO, in 3/4 time with a key signature of one flat. The notation is written on two staves (treble and bass clef). The melody consists of four measures: a half note G4, a quarter rest, a quarter note F4, a quarter note E4, a quarter note D4, a quarter note C4, a quarter note B3, a quarter note A3, a quarter note G3, and a whole note F3.

6. ALLAGRO

Musical notation for exercise 6, ALLAGRO, in 3/4 time with a key signature of one sharp. The notation is written on two staves (treble and bass clef). The melody consists of four measures: a dotted quarter note G4, an eighth note A4, a quarter note B4, a quarter note A4, a quarter note G4, a quarter note F4, a quarter note E4, a quarter note D4, a quarter note C4, a quarter note B3, a quarter note A3, a quarter note G3, and a whole note F3.

7. MODERATO

Musical notation for exercise 7, MODERATO, in 3/2 time with a key signature of one flat. The notation is written on two staves (treble and bass clef). The melody consists of four measures: a dotted quarter note G4, an eighth note A4, a quarter note B4, a quarter note A4, a quarter note G4, a quarter note F4, a quarter note E4, a quarter note D4, a quarter note C4, a quarter note B3, a quarter note A3, a quarter note G3, a quarter note F3, a quarter note E3, a quarter note D3, a quarter note C3, a quarter note B2, a quarter note A2, a quarter note G2, and a whole note F2.

8. ALLERETTO

Musical notation for exercise 8, ALLERETTO, in 4/4 time with a key signature of one flat. The notation is written on two staves (treble and bass clef). The melody consists of four measures: a dotted quarter note G4, an eighth note A4, a quarter note B4, a quarter note A4, a quarter note G4, a quarter note F4, a quarter note E4, a quarter note D4, a quarter note C4, a quarter note B3, a quarter note A3, a quarter note G3, a quarter note F3, a quarter note E3, a quarter note D3, a quarter note C3, a quarter note B2, a quarter note A2, a quarter note G2, and a whole note F2.

9. PRASTO

Musical notation for exercise 9, PRASTO, in 4/4 time with a key signature of one flat. The notation is written on two staves (treble and bass clef). The melody consists of four measures: a quarter rest, a quarter note G4, a quarter note F4, a quarter note E4, a quarter note D4, a quarter note C4, a quarter note B3, a quarter note A3, a quarter note G3, a quarter note F3, a quarter note E3, a quarter note D3, a quarter note C3, a quarter note B2, a quarter note A2, a quarter note G2, and a whole note F2.

